

Naam: Klas: Datum: Nr.

MMR ... / 15

MK ... / 10

MMR

... / 8

10 Herleidingen

... / 6

a Vul aan.

8 m = dm

235 cm = m

$\frac{1}{4}$ km = m

71,27 dm = mm

b Los op.

We maken een wandeling. We hebben al $\frac{3}{5}$ van het parcours afgelegd.
Dat is 2 700 m. Hoe lang is de hele wandeling in km?

Bewerking:

Antwoordzin:


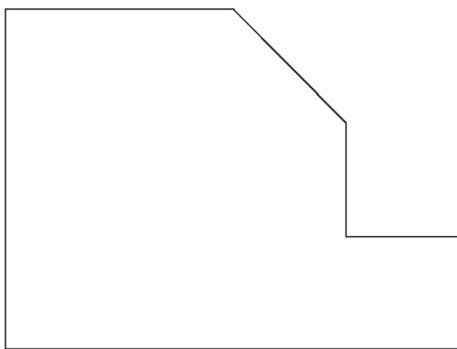
Voor de woonkamer heeft papa 30 m plint nodig.
De plinten in de houthandel meten 250 cm. Hoeveel stuks moet hij kopen?

Bewerking:

Antwoordzin:

11 Bereken en noteer de omtrek van deze figuren.

... / 2



.....

.....

.....

Naam: Klas: Datum: Nr.


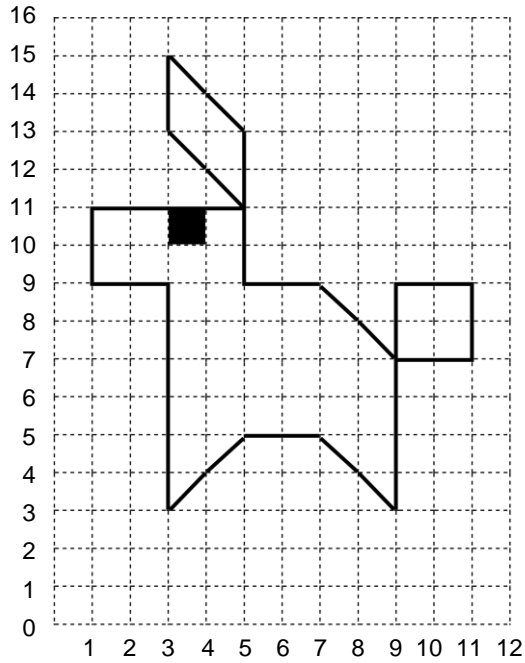
MK

... / 9

12 Teken de figuur over in het andere rooster.



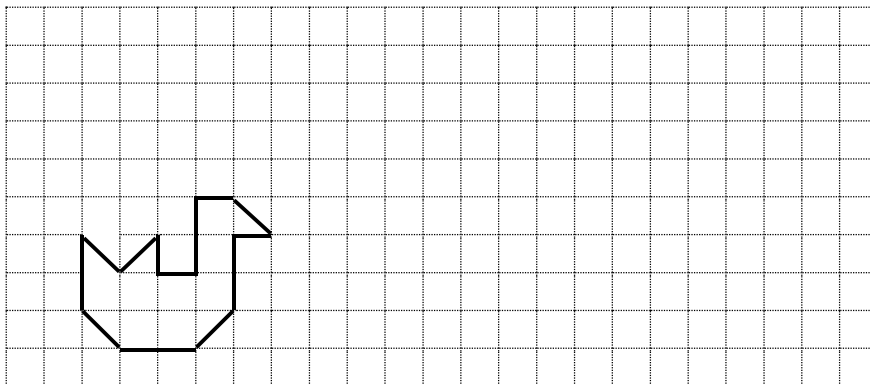
... / 5



13 Teken een gelijkvormige figuur die twee keer zo groot is.



... / 1



14 Teken wat je ziet als je telkens een kwartdraai in wijzerzin maakt.



... / 3

		eerste draai		tweede draai		derde draai			
<input type="checkbox"/>	<input type="radio"/>								
<input type="checkbox"/>	<input type="radio"/>								

